



پیش دبستانی و دبستان غیردولتی دخترانه **رویا**




مرور هفته‌ی پایه اول شماره ۳

نام و نام خانوادگی:

تاریخ:

علوم

۱ برای شناختن و حس کردن هر کدام از شکل‌های زیر از کدام عضو بدن استفاده می‌کنیم؟ به هم وصل کن.



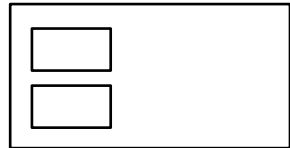
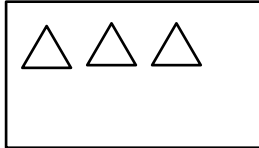
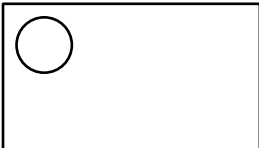
۲ دایره‌ی حیواناتی که بینایی قوی دارند را قهوه‌ای و حیواناتی که بویایی قوی دارند را زرد کن.

پیش دبستانی و دبستان دخترانه عزیز دولتی



ریاضی

۱ دختر کوشا به هر دسته ۲ شکل دیگر اضافه کن و آن را رنگ بزن.



۲ الگوی زیر را با مدارنگی ادامه بده.

| | | | | | | | |
|------|-----|--|--|--|--|--|--|
| قرمز | | | | | | | |
| | سبز | | | | | | |
| زرد | | | | | | | |
| | آبی | | | | | | |

۳ مربع‌های شگفت‌انگیز را با شکل‌های مناسب کامل کن.

| | | | | | | | |
|---|---|---|---|--|---|---|---|
| ○ | △ | ♥ | | | ♥ | △ | ○ |
| ♥ | □ | | △ | | △ | ○ | □ |
| △ | | □ | ○ | | ○ | ♥ | △ |
| | ○ | △ | ♥ | | ♥ | △ | □ |

فارسی


۱ در هر ردیف صدای اول کدام شکل با بقیه فرق دارد؟ آن را رنگ بزن.



ردیف ۱:



ردیف ۲:



ردیف ۳:

