



پیش دبستانی و دبستان غیردولتی دخترانه **رویا**



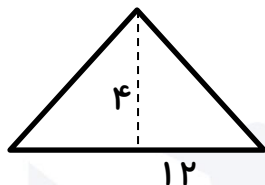
مدور هفته‌ی پایه چهارم شماره ۲۵

نام و نام خانوادگی:

تاریخ:

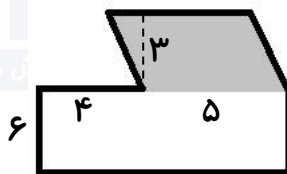
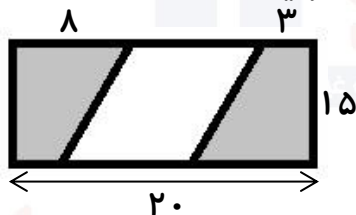
ریاضی

۱ اگر مساحت مستطیلی با مساحت مثلث زیر برابر باشد و طول مستطیل ۶ متر باشد، مساحت مثلث و عرض مستطیل را محاسبه کنید.



۲ زمینی مستطیل شکل به عرض ۱۲ و طول ۱۴ متر داریم. در ثلث آن سیب، و در بقیه آن گلابی کاشته شده است. در چند متر مربع از این زمین گلابی کاشته ایم؟

۳ در شکل‌های زیر مساحت قسمت رنگی را به دست آورید.



۴ پانیز به مدت ۷۰ دقیقه در آموزشگاه بوده است. اگر او ساعت ۱۸:۳۰ از آموزشگاه خارج شود، در چه ساعتی وارد آموزشگاه شده است؟

۵ یک شبانه‌روز و ۸ ساعت، چند دقیقه است؟

فارسی

۱ در جملات زیر غلط‌های املایی را پیدا کرده و درست آن را بنویسید.
روزی بهار و تابستان، پاییز و زمستان باهم گفت‌وگو می‌کردند. صحبت از این بود که هر کدام بحتر نقاشی کردند بماند و بغیه بروند.
شخصی به دوستی نامه‌ای می‌نوشت. کسی پخلوی او نشسته بود و از گوشه‌ی چشم نوشته‌هایش را می‌خاند. نویسنده متوجه نگاه‌های پنحان او شد و از کار ناپصند او به خشم آمد.

۲ در عبارات زیر انواع اجزای جمله را مشخص کنید.
- در بدن من هیچ عیب و نقصی نیست اما با رها شدن تیر همه‌ی نیروی من از تن بیرون خواهد رفت.
- علم انسان را توانا می‌کند که آینده را همان‌گونه که می‌خواهد بسازد.
- روزی پیرمرد فقیری پرتقالی را چید، دریک گاری گذاشت و به قصر پادشاه برد.

علوم

۱ «پروژه‌ی قلمه زدن»
با قلمه زدن می‌توان گیاه جدیدی درست کرد.
مواد لازم: قیچی - تکه‌ای از یک گیاه - گلدان کوچک - خاک - آب - کیسه‌ی پلاستیکی
مراحل کار: گیاهی را به شکلی ببرید که حداقل بخشی از ساقه و دو برگ از آن باقی بماند. گلدان را از خاک تا نیمه پر کنید. گیاه را درونش بگذارید. سپس مجدد با مقداری خاک روی آن را بپوشانید. روی گلدان را با کیسه‌ی پلاستیکی بپوشانید. و آن را زیر نور آفتاب قرار دهید. سپس پروژه‌ی انجام شده را با خود به کلاس بیاورید.