



پیش دبستانی و دبستان غیردولتی دخترانه **رویا**



مدور هفته‌ی پایه ششم شماره ۳

نام و نام خانوادگی:

تاریخ:

ریاضی

۱

دمای بعضی از شهرهای کشورمان در یکی از روزهای زمستان به شرح زیر بوده است. اما به دلایلی دمای برخی از شهرها پاک شده است. با توجه به توضیحات داده شده دمای آن‌ها را در جدول زیر بنویسید.

شهر	شهرکرد	همدان	اهواز	مشهد	بوشهر	اصفهان	کرمان	تهران
دما	-۱۰	-۶				-۷	+۱۰	-۴

توضیحات:

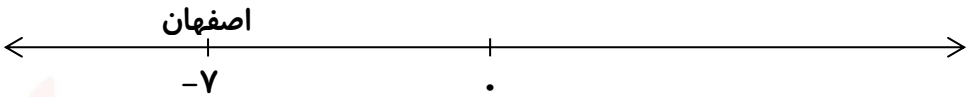
*دمای شهر اهواز ۱۹ درجه بیش‌تر از تهران بوده است.

*دمای مشهد ۲ درجه بیش‌تر از اصفهان بوده است.

*دمای بوشهر ۲۵ درجه از شهرکرد بیش‌تر بوده است.

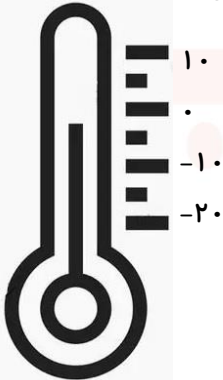
حالا شهرها را بر حسب دمای داده شده بر روی محور، از سردترین به گرم‌ترین بنویس.

پیش دبستانی و دبستان دخترانه غیر دولتی

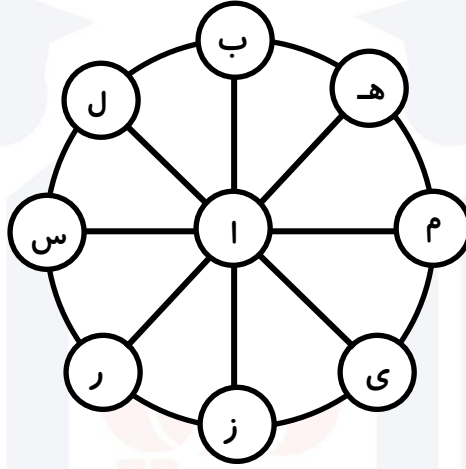


- دماسنج زیر دمای کدامیک از شهرهای جدول بالا را نشان می‌دهد؟

دماسنج دمای شهر را نشان می‌دهد.



۱ با دنبال کردن حروف روی لبه و پره‌های چرخ هر چند کلمه که می‌توانی درست کن. دقت کن از هر راهی که می‌روی برنگردی، حرفی را جا نیندازی و یک حرف را دوبار در یک کلمه استفاده نکنی.



پیش دبستانی و دبستان دخترانه غیر دولتی

-۱

-۲

-۳

-۴

-۵

-۶

-۷

-۸

-۹

-۱۰

پاسخ پرسش‌های زیر را حدس بزن. سپس ضرب کن! برای اطمینان از حدس خود حروف کنار حاصل ضرب را به ترتیب از کوچک به بزرگ در خانه‌ها بنویس.

* از کدام ماده برای افزایش استحکام کاغذ استفاده می‌شود؟

پاسخ: ○ ○ ○ ○ ○ ○

ت	ا	ن	ه	ش	س
$\frac{4}{36}$	$\frac{15}{2}$	$\frac{8}{4}$	$\frac{57}{2}$	$\frac{4}{52}$	$\frac{9}{64}$
\times	\times	\times	\times	\times	\times
$\frac{82}{7}$	$\frac{3}{7}$	$\frac{0}{3}$	$\frac{8}{32}$	$\frac{2}{75}$	$\frac{9}{2}$

* از کدام ماده برای تولید کاغذ ضد آب استفاده می‌شود؟

پاسخ: ○ ○ ○ ○ ○ ○ ○

پ	س	ل	ی	ت	ک	ا
$\frac{4}{32}$	$\frac{8}{75}$	$\frac{2}{56}$	$\frac{92}{7}$	$\frac{3}{74}$	$\frac{83}{3}$	$\frac{5}{82}$
\times	\times	\times	\times	\times	\times	\times
$\frac{0}{8}$	$\frac{0}{52}$	$\frac{1}{45}$	$\frac{8}{4}$	$\frac{4}{25}$	$\frac{9}{8}$	$\frac{0}{7}$